

سنڌي

مارڪون 03

ٽاسڪ 1

هيٺ ڏنل جملن ۾ هڪ لفظ جي هيٺيان ليڪَ (—) ڏنل آهي. ڏنل جوابن مان ان لفظ جي هم معنيٰ لفظ تي ٽڪ (✓) جو نشان لڳايو.

1. مون کي اوهان سان ملي ڏاڍي سرهائي ٿي.

الف. ڪاوڙ ب. خوشي ج. ڏکيائي د. تڪليف

2. انسان پنهنجي محنت سان ترقيءَ جون سڀيئي منزلون طئي ڪيون آهن.

الف. هنر ب. حرفت ج. ستارو د. مهارت

3. انٽرنيٽ جي اچڻ سان ماڻهن ۾ خط پٽ لکڻ جو رواج ختم ٿي ويو آهي.

الف. رسم ب. رواداري ج. عبث د. جيڏ

مارڪون 02

ٽاسڪ 2

روزمره جي زندگي ۾ ڪم ايندڙ هيٺ ٻه محاوره ڏنل آهن. انهن جي صحيح جواب تي ٽڪ (✓) جو نشان لڳايو.

معنيٰ	محاوره
الف. روزگار ڪسڻ ب. پيٽ تي ڏڪ هڻڻ ج. ورغلائڻ د. دشمني ڪيڏ	پيٽ تي لت ڏيڻ
الف. واٽرو ٿيڻ ب. پيش پوڻ ج. هوش نه رهڻ د. شرمندو ٿيڻ	حوصلو خطا ٿيڻ

مارڪون 04

ٽاسڪ 3

هيٺ ڏنل لفظن مان ڪي به به مذڪر ۽ به مؤنث الڳ الڳ ڪري لکو.

اظهر - ڪرسي - ڍڳو - بڪري - فاطمه - ڪٽولو

مؤنث	مذڪر

مارڪون 02

ٽاسڪ 4

هيٺين جملن مان انهن لفظن جي هيٺيان ليک (—) پايو، جيڪي ٻن اسمن کي ملائي جملو پورو ڪن ٿا.

- ڪوپ ۾ چانهه آهي.
- مريم ۽ ذڪيه گڏجي ڪم ڪيو.

مارڪون 02

ٽاسڪ 5

هر قافيه لفظن تي ٽڪ (✓) جو نشان لڳايو.

- نيڻَ
- الف. چين ب. سينَ ج. سندن د. منهن
- رڌيو
- الف. مون ب. هو ج. رکيو د. هئو

مارڪون 03

ٽاسڪ 6

هيٺ ”زمان حال“ ۽ ”زمان مستقبل“ جا جملا ڏنا ويا آهن، انهن کي ”زمان ماضي“ ۾ بدلايو.

زمان حال	زمان مستقبل	زمان ماضي
اڄ مان ڪيڏان پيو.	سپاڻي مان ڪيڏندس.	
اڄ اسان گهڻ پيا وڃون.	سپاڻي اسان گهڻ وينداسين.	
اڄ همير جي سالگره آهي.	سپاڻي همير جي سالگره ٿيندي.	

مارڪون 04

ٽاسڪ 7

هيٺ ڏنل اصطلاحن جي معنيٰ لکڻ ۽ جملن ۾ ڪم آڻيو.

1. ڪير ڪند ٿيڻ

2. تڪو منو ٿيڻ

English

Task 9**7 Marks**

Tick (✓) the correct answers.

i) Which of the following is an example of a **pronoun**?

- A. we
- B. try
- C. box
- D. from

ii) Mark the **adverb of frequency**.

- A. action
- B. Salman
- C. always
- D. mobile

iii) Which of the following is the **past participle verb**?

- A. go
- B. goes
- C. went
- D. gone

iv) Identify the sentence that has correct **punctuation**.

- A. Ahmed Saad and Nadia are going to school.
- B. Ahmed Saad and Nadia are going to school!
- C. Ahmed, Saad and Nadia are going to school.
- D. Ahmed, Saad and Nadia are going to school?

v) Mark the comparative degree of the underlined word in the given sentence.

I have an old car

- A. olds.
- B. older.
- C. oldest.
- D. most oldest.

vi) Mark the sentence of **present perfect**.

- A. My sister has completed her assignment.
- B. My sister completed her assignment.
- C. My sister completes her assignment.
- D. My sister will complete her assignment

vii) Which of the following is a **negative sentence**?

- A. Mr. Farooque watches television.
- B. Mr. Farooque doesn't watch television.
- C. Mr. Farooque watched television.
- D. Mr. Farooque will watch television.

Task 10

2 Marks

Read the given sentences. Write their appropriate questions in the given sentences. Do not forget to put question mark at the end of each question.

i) _____

My favourite fruit is strawberry.

ii) _____

His brother has gone for shopping.

Task 11**3 Marks**

Read the given poem and answer the following questions.

When you drop me on the floor
I get stepped on –my sides are sore;
Torn –out pages make me groan;
I feel dizzy if I'm thrown;
Every mark and every stain
On my covers gives me pain;
Please don't bend me, if you do
I don't want to talk to you;
But we will both be friends together,
If you protect me from the weather
And keep me clean so that I look
A tidy, neat and happy book.

Anonymous

Write the correct answers.

i) Suggest and write appropriate title for the poem above.

ii) How could you become the friend of a book?

iii) Find **any one adjective** in the poem and write in the given space.

Task 12**5 Marks**

Tick (✓) the correct answers to complete the following sentences.

i) School is closed _____ today is Sunday.

- A. but
- B. and
- C. therefore
- D. because

ii) We have _____ subjects to study.

- A. many
- B. much
- C. any
- D. a

iii) I have _____ eaten my lunch.

- A. yet
- B. already
- C. because
- D. as

iv) A sparrow _____ swim.

- A. can
- B. should
- C. cannot
- D. should not

v) He goes _____ school by bus.

- A. in
- B. to
- C. on
- D. for

Task 14**4 Marks**

Write a letter to your friend about an interesting place you have recently visited.

(NOTE: Use correct punctuation, grammar and spellings)

MD PREVIEW

Mathematics

Task 15

15 Marks

Tick (✓) the correct answers.

صحيح جوابن تي تڪ (✓) جو نشان لڳايو.

i) $\frac{5}{9}$ is the reciprocal of

$\frac{5}{9}$ جو ضربي ابتر آهي

A. $\frac{9}{2}$

B. $\frac{9}{7}$

C. $\frac{9}{5}$

D. $\frac{9}{3}$

ii) $\frac{2}{5}$ into percentage is

$\frac{2}{5}$ في سيڪڙي ۾ ٿيندو

A. 30%

B. 40%

C. 50%

D. 60%

iii) If a piece of 10 metres long kite string costs Rs 5. The cost of kite string which is 30 metres long would be Rs

جيڪڏهن 10 ميٽر ڊيگهه وارو لڳڙاڏاڻو وارو ڏاڳي جو هڪ ٽڪرو 5 روپين ۾ ملي ٿو ته 30 ميٽر ڊيگهه

واري لڳڙاڏاڻو واري ڏاڳي جي قيمت ٿيندي

A. 10

B. 15

C. 20

D. 25

iv)
$$\begin{array}{r} 15.5 \\ -7.42 \\ \hline \hline \end{array}$$

- A. 7.98
B. 8.08
C. 8.18
D. 8.28

v) $\frac{1}{2} + \frac{5}{8} = \underline{\hspace{2cm}}.$

- A. $\frac{3}{8}$
B. $\frac{5}{8}$
C. $\frac{7}{8}$
D. $\frac{9}{8}$

vi) In a class of 30 boys, **two-third** carry books. The number of boys carrying books is

هڪ ڪلاس ۾ 30 ڇوڪرا آهن، انهن مان ٻه ڀاڱي ٽي ڪتاب کڻي اچن ٿا. ڪتاب کڻي ايندڙ ڇوڪرن جو تعداد آهي

- A. 18
B. 20
C. 22
D. 24

vii) If a tree grow by **60** centimetres in **5** months. What will be its height after **10** months?

هڪ وڻ 5 مهينن ۾ 60 سينٽي ميٽر وڌي ٿو. 10 مهينن بعد ان جي اوچائي ڪيتري ٿيندي؟



A. 110 centimetres

110 سينٽي ميٽر

B. 120 centimetres

120 سينٽي ميٽر

C. 130 centimetres

130 سينٽي ميٽر

D. 140 centimetres

140 سينٽي ميٽر

viii) $-12 - (-9) = \underline{\hspace{2cm}}$.

A. -3

B. $+3$

C. -21

D. $+21$

ix) In a class of **50** students, **10%** students are absent. The number of absentees is

هڪ ڪلاس ۾ 50 شاگرد آهن، تنهن مان 10 سيڪڙو شاگرد غير حاضر آهن. غير حاضر شاگردن جو

تعداد آهي

A. 2

B. 3

C. 4

D. 5

x) The average of the following set of numbers is

هيٺ ڏنل عددن جي سڀيت جي سراسري آهي

4, 7, 11, 13, 3, 10

- A. 6
- B. 8
- C. 10
- D. 12

xi) $8 \div \frac{1}{4} =$ _____.

- A. 20
- B. 26
- C. 32
- D. 38

xii) The sum of $2x - 3y$ and $3x + 7y$ is

3x + 7y ۽ 2x - 3y جو جوڙو آهي

- A. $4x - 5y$
- B. $4x + 5y$
- C. $5x - 4y$
- D. $5x + 4y$

xiii) $15.48 \div 4 =$ _____.

- A. 3.47
- B. 3.87
- C. 4.47
- D. 4.87

xiv) The ratio of the heights of Ahmer and Babar is **3 : 4** and that of Babar and Kareem is **5 : 7**. The continued ratio among the heights of Ahmer, Babar and Kareem is

احمر ۽ بابر جي قد جو تناسب 3:4 آهي ۽ بابر ۽ كريم جو 5:7 آهي. احمر، بابر ۽ كريم جي قد جو مسلسل تناسب آهي

- A. 12 : 15 : 18
- B. 15 : 18 : 21
- C. 15 : 20 : 28
- D. 18 : 21 : 24

xv) A man bought bananas for **Rs 80** and sold them for **Rs 120**. The gain percent is

هڪ ماڻهو 80 روپين ۾ ڪيلا خريد ڪيا ۽ 120 روپين ۾ وڪرو ڪيا. ان کي جيڪو منافع ٿيو اهو في سيڪڙي ۾ آهي



- A. 40%
- B. 50%
- C. 60%
- D. 70%

Task 16**2 Marks**

Simplify and show steps.

سادى صورت ۾ آڻيو. مرحلا ڏيکاريو.

$$25.6 + 13.9 - 9.7$$

Ans. _____

Task 17**2 Marks**

Solve the following equation. Show steps.

هيٺ ڏنل مساوات حل ڪريو. مرحلا ڏيکاريو.

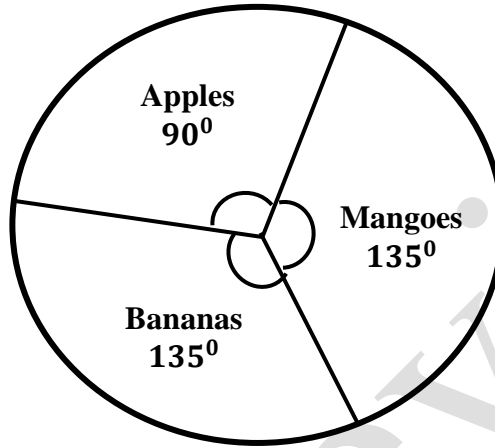
$$3x - 4 = 8$$

Ans. _____

Task 18**3 Marks**

The following pie graph shows the angle of children who like a particular fruit. There are **120** children in the survey.

هيٺ ڏنل پاءِ گراف ٻارن جي ڪنڊ کي ظاهر ڪري رهيو آهي، جيڪي هڪ خاص ميوو پسند ڪن ٿا. هن سروري ۾ 120 ٻار آهن.



i) How many children like mangoes?

ڪيترن ٻارن کي انب پسند آهن؟

Ans. _____

ii) How many children like apples?

ڪيترن ٻارن کي صوف پسند آهن؟

Ans. _____

iii) How many children like Bananas?

ڪيترن ٻارن کي ڪيلا پسند آهن؟

Ans. _____

Task 19**3 Marks**

Multiply $3x + 7y + 5z$ by $2x^2$. Show steps.

$3x + 7y + 5z$ کي $2x^2$ سان ضرب ڪريو. مرحلا ڏيکاريو.

Ans. _____

Rough Work

MD Review

Science

Task 20

10 Marks

Tick (✓) the correct answers.

صحيح جوابن تي تڪ (✓) جو نشان لڳايو.

i) Select the living thing from the following.

هيٺ ڏنل مان جاندار شيء جي سڃاڻپ ڪريو.

A	B	C	D
Car	Light	Plant	Paper
گاڏي	روشنِي	پوٽا	ڪاغذ / پنو

ii) Lions have sharp teeth for tearing flesh. Which enables them to survive in a particular environment. This phenomenon is called

شينهن کي گوشت جي چيرڦاڙ لاءِ تيز ڏند هوندا آهن. اها خاصيت ان کي خاص ماحول ۾ زندهه رهڻ جي لائق بڻائيندي آهي ۽ سڃاڻي / ڄاڻي ويندي آهي

A	B	C	D
adaptation.	ecosystem.	behavior.	variation.
مطابقت.	ماحوليات.	رويو.	قسمين قسمين.

iii) Following is an image of a fish. It breathes through its

هيٺ ڏنل تصوير مڇي جي آهي. هو جنهن وسيلي سان ساهه کڻندي آهي. اهو آهي



A	B	C	D
gills.	lungs.	skin.	kidneys.
گليون.	ڦڦڙ.	ڪل.	بڪيون.

iv) Select the name of part X of a microscope.

هيٺ ڏنل خوردبيني جي X حصي جي سڃاڻپ ڪريو.



A
Stand
اسٽينڊ

B
Slide
سلائيڊ

C
Arm
هٿ

D
Stage
اسٽيج

v) The animal shown below is

هيٺ ڏيکاريل جانور آهي



A
Sea horse.
سامونڊي گهوڙو.

B
Turtle.
ڪمي.

C
Hydra.
هائڊرا.

D
Seaweed.
سامونڊي ڪائي.

vi) Argon is used

آرگان استعمال ٿيندو آهي

A

for making artificial fertilizer.

مصنوعي پاڻ ٺاهڻ لاءِ.

B

as fuel for aeroplanes.

هوائي جهاز جي توانائي لاءِ.

C

to fill in tube lights.

ٽيوب لائيٽس ۾ ڀرڻ لاءِ.

D

during welding.

ويلڊنگ جي دوران.

vii) Which of the following gases is released while wood is burnt?

جڏهن ڪاڻ کي ٻاريو ويندو آهي، ته هيٺين مان ڪهڙي گئس خارج ٿيندي؟



A

Carbon dioxide

ڪاربان ڊاءِ آڪسائيڊ

B

Oxygen

آڪسيجن

C

Nitrogen

نائٽروجن

D

Fluorine

فلورين

viii) Select the instrument that is used to measure the air pressure.

هيٺين مان هوا جي دٻاءَ کي ماپڻ لاءِ استعمال ٿيندڙ اوزار جي چونڊ ڪريو.



A



B



C



D

ix) Which of the following gases is used to purify water?

پاڻي کي شفاف ڪرڻ لاءِ ڪهڙي گئس استعمال ٿيندي آهي؟

A	B	C	D
Hydrogen	Chlorine	Nitrogen	Oxygen
هائيڊروجن	ڪلورين	نائٽروجن	آڪسيجن

x) Which type of energy is stored in the batteries shown below?

هيٺ ڏنل بئٽرين ۾ ڪهڙي قسم جي توانائي جمع ٿيندي آهي؟



A	B	C	D
Potential energy	Chemical energy	Solar energy	Heat energy
امڪاني توانائي	ڪيميائي توانائي	شمسي توانائي	گرمي واري توانائي

Task 21**2 Marks**

Write **any two** differences between City Environment and Village Environment.

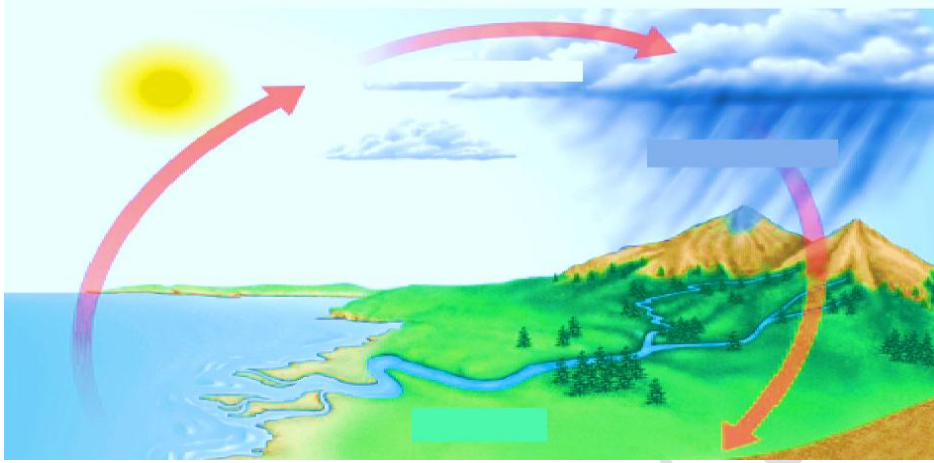
شہری ماحول ۽ ڳوٺاڻو ماحول ۾ ڪي به ٻه فرق لکو.

S.no نمبر شمار	City Environment شہری ماحول	Village Environment ڳوٺاڻو ماحول
01		
02		

Task 22**2 Marks**

The given diagram is of water cycle. Write **two** processes that occur in this cycle.

هيٺ ڏنل تصوير آبي چڪر جي آهي. آبي چڪر ۾ موجود ڪي به ٻه عمل لکو.



i)

ii)

Task 23**2 Marks**

Explain **any two** factors that contribute to water pollution.

پاڻي جي گدلاڻ جي ڪنهن به ٻن سبب جي وضاحت ڪريو.

i)

ii)

Task 24**1 Mark**

Write **any one** function of electroscope.

ايڪٽرواسڪوپ جو ڪو به هڪ ڪم لکو.

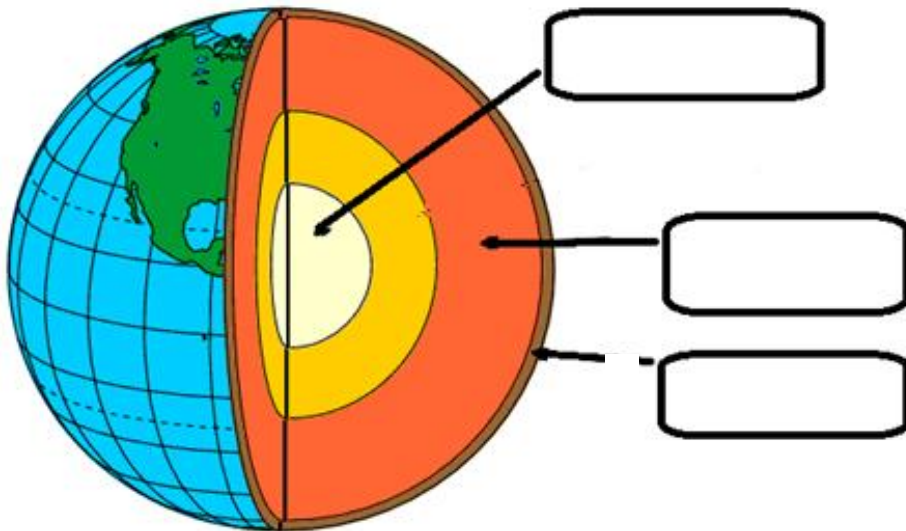


Ans. _____

Task 25**3 Marks**

Label the given internal structure of the earth.

هيٺ ڏنل ڌرتي جي اندروني حصن جي سڃاڻپ ڪريو.



Task 26**3 Marks**

Write **any three** uses of nitrogen gas.

نائٽروجن گيس جا ڪي به ٽي فائدا لکو.

i)

ii)

iii)

Task 27**2 Marks**

Write a short note on waterlogging.

سِر (واٽر لاڳنگ) تي مختصر نوٽ لکو.

End of Paper